

Nazwa kwalifikacji: **Asystowanie lekarzowi dentyście i utrzymanie gabinetu w gotowości do pracy**
Oznaczenie kwalifikacji: **Z.15**
Wersja arkusza: **X**

*Arkusz zawiera informacje prawnie chronione
do momentu rozpoczęcia egzaminu*

Z.15-X-15.01
Czas trwania egzaminu: **60 minut**

Układ graficzny © CKE 2015

EGZAMIN POTWIERDZAJĄCY KWALIFIKACJE W ZAWODZIE
Rok 2015
CZĘŚĆ PISEMNA

Instrukcja dla zdającego

1. Sprawdź, czy arkusz egzaminacyjny zawiera 9 stron. Ewentualny brak stron lub inne usterki zgłoś przewodniczącemu zespołu nadzorującego.
2. Do arkusza dołączona jest KARTA ODPOWIEDZI, na której w oznaczonych miejscach:
 - wpisz oznaczenie kwalifikacji,
 - zamaluj kratkę z oznaczeniem wersji arkusza,
 - wpisz swój numer *PESEL**,
 - wpisz swoją datę urodzenia,
 - przyklej naklejkę ze swoim numerem *PESEL*.
3. Arkusz egzaminacyjny zawiera test składający się z 40 zadań.
4. Za każde poprawnie rozwiązane zadanie możesz uzyskać **1 punkt**.
5. Aby zdać część pisemną egzaminu musisz uzyskać co najmniej **20 punktów**.
6. Czytaj uważnie wszystkie zadania.
7. Rozwiązania zaznaczaj na KARCIE ODPOWIEDZI długopisem lub piórem z czarnym tuszem/atramentem.
8. Do każdego zadania podane są cztery możliwe odpowiedzi: A, B, C, D. Odpowiada im następujący układ kratek w KARCIE ODPOWIEDZI:

A	B	C	D
---	---	---	---

9. Tylko jedna odpowiedź jest poprawna.
10. Wybierz właściwą odpowiedź i zamaluj kratkę z odpowiadającą jej literą – np., gdy wybrałeś odpowiedź „A”:

<input checked="" type="checkbox"/>	<input type="checkbox"/>	<input type="checkbox"/>	<input type="checkbox"/>
-------------------------------------	--------------------------	--------------------------	--------------------------

11. Staraj się wyraźnie zaznaczać odpowiedzi. Jeżeli się pomylisz i błędnie zaznaczysz odpowiedź, otocz ją kółkiem i zaznacz odpowiedź, którą uważasz za poprawną, np.

<input checked="" type="checkbox"/>	<input type="checkbox"/>	<input type="checkbox"/>	<input checked="" type="checkbox"/>
-------------------------------------	--------------------------	--------------------------	-------------------------------------

12. Po rozwiązaniu testu sprawdź, czy zaznaczyłeś wszystkie odpowiedzi na KARCIE ODPOWIEDZI i wprowadziłeś wszystkie dane, o których mowa w punkcie 2 tej instrukcji.

Pamiętaj, że oddajesz przewodniczącemu zespołu nadzorującego tylko KARTĘ ODPOWIEDZI.

Powodzenia!

* w przypadku braku numeru *PESEL* – seria i numer paszportu lub innego dokumentu potwierdzającego tożsamość

Zadanie 1.

Zdolność autoklawu do usuwania powietrza w celu osiągnięcia próżni w komorze sterylizacyjnej kontrolowana jest przy pomocy testu

- A. TAS.
- B. Helix.
- C. Browne TST.
- D. Bowie&Dick.

Zadanie 2.

Substancja dezynfekcyjna oznakowana na opakowaniu symbolem F ma zakres działania

- A. sporobójczy.
- B. wirusobójczy.
- C. grzybobójczy.
- D. bakterioobójczy.

Zadanie 3.

Ile preparatu należy przygotować, aby otrzymać 2 litry 0,5% roztworu w dezynfekcji metodą zanurzeniową?

- A. 5 g
- B. 10 g
- C. 15 g
- D. 20 g

Zadanie 4.

Której masy wyciskowej używa się, wykonując wyciski dwufazowe?

- A. Agarowej.
- B. Gipsowej.
- C. Alginatowej.
- D. Silikonowej.

Zadanie 5.

Do gotowych past fleczerowych należą:

- A. Evicrol, Herculite.
- B. Provident, Coltosol.
- C. Oxidentin, Multidentin.
- D. Live, Biopulp.

Zadanie 6.

Do materiałów podkładowych zalicza się cement

- A. krzemowy.
- B. prowizoryczny.
- C. glassjonomerowy.
- D. cynkowo-siarczanowy.

Zadanie 7.

Do zneutralizowania warstwy mazistej zębiny, podczas przygotowania ubytku zęba do założenia wypełnienia kompozytowego, lekarzowi należy podać

- A. primer.
- B. coupling.
- C. adhesive.
- D. conditioner.

Zadanie 8.

Właściwością leczniczą Biopulpu jest

- A. działanie przeciwkrwotoczne i działanie w celu mumifikowania tkanek miękkich.
- B. działanie odontotropowe i bakteriobójcze dzięki silnemu alkalizowaniu środowiska.
- C. długotrwałe działanie kariostatyczne.
- D. mumifikowanie tkanek miękkich.

Zadanie 9.

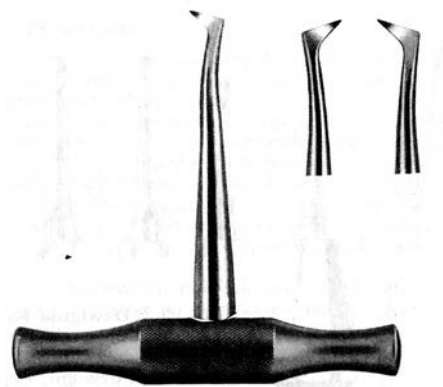
Które cementy lecznicze wodorotlenkowo-wapniowe występują w postaci dwuskładnikowej, jako dwie pasty?

- A. Dycal, Live.
- B. Calxyl, Reogan.
- C. Calcicur, Calcimol.
- D. Calasept, Biopulp.

Zadanie 10.

Przedstawione na rysunku narzędzie to dźwignia

- A. Wintera.
- B. Lecluse'a.
- C. Meissnera.
- D. Schlemmera.



Zadanie 11.


Instrumenty protetyczne i ortodontyczne „rekinki” to kleszcze

- A. płasko-wypukłe.
- B. do formowania grotów.
- C. uniwersalne kramponowe.
- D. do formowania pierścieni proste.

Zadanie 12.

Przedstawione na rysunku kleszcze służą do usuwania dolnych

- A. korzeni.
- B. kłów.
- C. trzonowców.
- D. przedtrzonowców.



Zadanie 13.

Do oznaczenia szerokości łuków zębowych służy

- A. dozometr.
- B. negatoskop.
- C. przyrząd Willisa.
- D. cyrkiel ortodontyczny.

Zadanie 14.

Do zabiegu wypełnienia kanałów korzeniowych zęba należy przygotować igłę

- A. Lentulo, miazgociągi i upychadło kanałowe.
- B. Lentulo i upychadło do ćwieków gutaperkowych.
- C. Millera, poszerzacz kanałowe i upychadło kulkowe.
- D. Druxa, upychadło kanałowe i poszerzacz kanałowe.

Zadanie 15.

Worek z odpadami medycznymi skażonymi należy oznakować kodem

- A. 18 01 03
- B. 18 01 04
- C. 18 01 06
- D. 18 01 10

Zadanie 16.

Odpady medyczne pozostałe, nieposiadające właściwości niebezpiecznych, mogą być magazynowane

- A. w temperaturze do 10°C, jednak nie dłużej niż 30 dni.
- B. tak długo, jak pozwalają na to ich właściwości, jednak nie dłużej niż 30 dni.
- C. tylko w temperaturze do 10°C, a czas ich przechowywania nie może przekroczyć 72 godzin.
- D. w temperaturze od 10 do 18°C tak długo, jak pozwalają na to ich właściwości, jednak nie dłużej niż 72 godziny.

Zadanie 17.

Jaka próchnica występuje najczęściej u dzieci i młodzieży?

- A. Ostra.
- B. Powikłana.
- C. Nietypowa.
- D. Przewlekła.

Zadanie 18.

Zwapniały zióg, tworzący się na powierzchniach zębowych oraz uzupełnieniach protetycznych to

- A. biofilm.
- B. kamień nazębny.
- C. płytka nazębna.
- D. nabyta osłonka zębowa.

Zadanie 19.

Do której klasy według Blacka zalicza się ubytek zlokalizowany na powierzchni żującej trzonowców i przedtrzonowców?

- A. I
- B. II
- C. III
- D. IV

Zadanie 20.

Do powstania dysfunkcji narządu żucia przyczynia się

- A. ssanie smoczka.
- B. ogryzanie paznokci.
- C. oddychanie przez usta.
- D. nawykowe podpieranie bródki.

Zadanie 21.

Przyczyną zwicnięcia zęba może być

- A. wada zgryzu.
- B. uraz mechaniczny.
- C. choroba przyzębia.
- D. choroba próchnicowa.

Zadanie 22.

Profilaktyka fluorkowa egzogenna to

- A. fluoryzacja tabletkowa.
- B. fluoryzacja kontaktowa.
- C. fluorkowanie wody wodociągowej.
- D. fluorkowanie produktów spożywczych.

Zadanie 23.

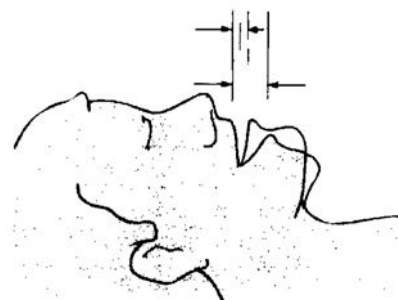
Iniekcje to inaczej

- A. inhalacje.
- B. wstrzyknięcia.
- C. stymulatory dziąsłowe.
- D. uzupełnienia protetyczne.

Zadanie 24.

W technice pracy na cztery ręce rysunek przedstawia zmianę

- A. II
- B. III
- C. IV
- D. V



Zadanie 25.

W zasięgu lewej ręki asystentki powinien znajdować się

- A. asystor.
- B. reflektor.
- C. materiał do wypełnień.
- D. zestaw przeciwwstrząsowy.

Zadanie 26.

Wszystkie ruchy lekarza i asysty w wybranej metodzie przekazywania instrumentów powinny należeć najwyżej do klasy

- A. I
- B. II
- C. III
- D. IV

Zadanie 27.

W trakcie asystowania lekarzowi przy opracowywaniu ubytku próchnicowego asystentka trzyma dmuchawko-strzykawkę

- A. chwytem dłoniowym.
- B. chwytem pisarskim.
- C. dwoma palcami.
- D. trzema palcami.

Zadanie 28.

W której strefie pracy zespołu stomatologicznego należy ustawić krzeselko lekarza?

- A. Statycznej.
- B. Operacyjnej.
- C. Transferowej.
- D. Demarkacyjnej.

Zadanie 29.

Podczas wizyty pacjenta lekarz będzie pobierał rejestr zwarcia. Do zabiegu należy przygotować

- A. wosk zgryzowy i palnik gazowy.
- B. kompletną protezę i wzornik kolorów.
- C. modele z próbnymi protezami woskowymi i ołówek kopiowy.
- D. łyżki wyciskowe, gumową miseczkę i szpatułkę do mieszania.

Zadanie 30.

W celu dopasowania ortodontycznego aparatu czynnego zdejmowanego, lekarzowi należy przygotować

- A. frezy protetyczne i kleszcze kramponowe.
- B. łuk podniebienny i kleszcze do cięcia drutu.
- C. śrubę do rotowania zębów i kalkę okluzyjną.
- D. wosk modelowy, palnik gazowy i duże lusterko.

Zadanie 31.

Cement fosforanowy należy zarabiać na

- A. płytkach papierowych szpatułką plastikową.
- B. gładkiej powierzchni płytki szklanej szpatułką metalową.
- C. matowej powierzchni płytki szklanej szpatułką metalową.
- D. płytkach gumowych szpatułką z tworzywa sztucznego lub metalową.

Zadanie 32.

Resuscytację krążeniowo-oddechową u pacjenta należy rozpocząć w przypadku

- A. ostrej zapaści.
- B. dusznicy bolesnej.
- C. śpiączki cukrzycowej.
- D. nieustającego ataku epilepsji.

Zadanie 33.

W przypadku wystąpienia wstrząsu insulinowego podczas zabiegu, w postępowaniu należy przerwać wszystkie czynności oraz

- A. ułożyć pacjenta płasko i udrożnić drogi oddechowe.
- B. poluźnić ciasne części garderoby pacjenta i podać wodę do picia.
- C. doustnie podać mu glukozę lub zwykły cukier, jeżeli pacjent jest przytomny.
- D. poluźnić ciasne części garderoby pacjenta i podać tlen przez maseczkę twarzową.

Zadanie 34.

Według numeracji FDI kwadrant lewy górny dla zębów mlecznych oznacza się cyfrą

- A. 2
- B. 3
- C. 6
- D. 7

Zadanie 35.

Dokumentacja medyczna w postaci zleceń i skierowań pozostaje

- A. u lekarza rodzinnego.
- B. w zakładzie, który zlecił świadczenie.
- C. u pacjenta, po zrealizowaniu świadczenia.
- D. w zakładzie, który zrealizował zleczone świadczenie.

Zadanie 36.

Po upływie ustawowych okresów przechowywania w archiwum określonej dokumentacji medycznej podlega ona

- A. zniszczeniu.
- B. odesłaniu do pacjenta.
- C. przekazaniu do właściwego dla pacjenta oddziału NFZ.
- D. przekazaniu do Wojewódzkiej Poradni Stomatologicznej.

Zadanie 37.

Przekazujący dokumenty medyczne **nie jest** zobowiązany do

- A. sprawdzenia tożsamości osoby odbierającej.
- B. sprawdzenia uprawnień osoby odbierającej.
- C. zapoznania odbierającego z prawem przechowywania dokumentacji.
- D. odnotowania faktu przekazania w dokumentacji wewnętrznej indywidualnej i zbiorczej.

Zadanie 38.

Który system znakowania zębów zastosował lekarz dentysta, który zapisał ząb symbolem +2 w karcie choroby pacjenta?

- A. FDI.
- B. Haderupa.
- C. Amerykański.
- D. Zsigmondy'ego.

Zadanie 39.

Jakim kolorem należy zaznaczyć ząb usunięty na diagramie uwzględniającym poszczególne powierzchnie zęba?

- A. Czarnym.
- B. Zielonym.
- C. Niebieskim.
- D. Czerwonym.

Zadanie 40.

Dokumentacja ewidencyjna pacjentów prowadzona w systemie chronologicznym polega na zapisywaniu pacjentów według

- A. nazwiska pacjenta.
- B. kolejności rejestru.
- C. miejsca zamieszkania.
- D. daty urodzenia w systemie PESEL.